

제 4 교시

직업탐구 영역(상업 경제)

성명

수험 번호

제 [    ] 선택

1. 다음은 화폐의 기능에 대한 아빠와 아들의 대화이다. (가)에 들어갈 내용으로 가장 적절한 것은? (단, 화폐는 한국은행에서 발행된 것으로 한정한다.)



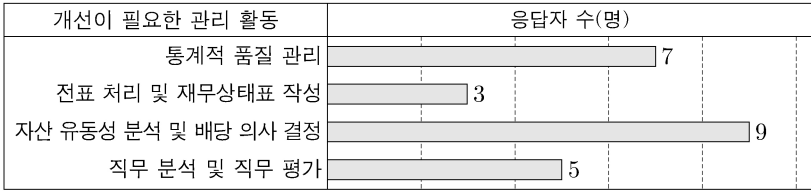
- ① 교환 수단      ② 지급 수단      ③ 가치 저장 수단
- ④ 가치 척도 수단      ⑤ 지급 위탁 수단

2. 다음 (가), (나)에 해당하는 상업의 객체가 갖는 공통점으로 적절한 것은?

- (가)은/는 창고업자가 발행하는 상업의 객체로, 창고에 보관 중인 물건을 찾을 수 있는 권리를 표시하며 보관 중인 물건의 종류, 수량 등이 기재된다.
- (나)은/는 선박 회사와 화주와의 운송 계약에 의해 통상적으로 화주가 본선에 화물을 적재한 후 선박 회사가 발행하는 상업의 객체로, 선박의 명칭, 화물의 종류 등이 기재된다.

- ① 물류 기능을 수행하는 상업에서 발행된다.
- ② 자본을 조달하기 위하여 발행하는 유가 증권이다.
- ③ 화폐 대신 이용하기 위하여 발행하는 유가 증권이다.
- ④ 시간적 불일치 해소 기능을 수행하는 상업에서 발행된다.
- ⑤ 장소적 불일치 해소 기능을 수행하는 상업에서 발행된다.

3. 그래프는 ○○기업에서 개선이 필요한 관리 활동을 조사하기 위해 외부 전문가를 대상으로 시행한 설문 결과이다. 이를 통해 우선적으로 개선해야 할 관리 활동을 <보기>에서 순서대로 옳게 배열한 것은? (단, 응답자 수가 많은 관리 활동을 우선적으로 개선한다.)



<보 기>

- ㄱ. 재무 관리      ㄴ. 생산 관리
- ㄷ. 회계 정보 관리      ㄹ. 인적 자원 관리

- ① ㄱ-ㄴ-ㄷ-ㄹ      ② ㄱ-ㄷ-ㄴ-ㄹ
- ③ ㄱ-ㄷ-ㄴ-ㄹ      ④ ㄷ-ㄱ-ㄴ-ㄹ
- ⑤ ㄷ-ㄴ-ㄷ-ㄱ

4. 다음 <자료 1>은 국민 경제의 주체 A~C를 구분한 것이고, <자료 2>는 B, C주체가 갖는 특징을 나타낸 것이다. 이에 대한 설명으로 옳지 않은 것은?

<자료 1>

구분	A	B	C
공공 이익의 극대화를 추구합니까?	예	아니요	아니요
이윤 극대화를 추구합니까?	아니요	예	아니요

<자료 2>

㉠은 B만의 특징,  
㉡은 B와 C의 공통적인 특징,  
㉢은 C만의 특징을 나타낸 것이다.

- ① A는 B, C에 공공 서비스를 제공한다.
- ② B와 C는 A에 세금을 납부한다.
- ③ ㉠에는 ‘생산 요소를 제공받고 그 대가를 지불한다.’가 들어갈 수 있다.
- ④ ㉡에는 ‘민간 경제의 주체이다.’가 들어갈 수 있다.
- ⑤ ㉢에는 ‘생산물 시장에서 공급자가 된다.’가 들어갈 수 있다.

5. 다음은 ○○(주)의 판매 가격 보고서이다. [2023년 판매 가격 결정 방안]을 반영할 때 나타나는 판매 가격 구성 요소에 대한 설명으로 옳은 것만을 <보기>에서 있는 대로 고른 것은? [3점]

○○(주)의 판매 가격 보고서

[2022년 판매 가격 분석]

• 판매 가격 대비 과도한 비용 발생

• 개당 판매 가격 세부 내역

• 판매 가격	5,000원	• 매입 가격	3,000원
• 매입 제비용	1,000원	• 영업비	500원

2023년에는 2022년 대비 개당 이폭률을 5%p\* 내외로 증가시킬 필요가 있어 다음과 같은 판매 가격 결정 방안을 마련함.

[2023년 판매 가격 결정 방안]

• 개당 판매 가격은 2022년과 동일하게 유지

• 개당 매입 가격과 매입 제비용은 2022년 대비 각각 5%씩 절감

• 개당 영업비는 2022년 대비 10% 절감

\* %p: %의 차를 측정하는 단위이다.

<보 기>

- ㄱ. 2023년 개당 판매 원가는 3,300원이다.
- ㄴ. 2022년 대비 2023년의 개당 이폭률은 4%p 증가한다.
- ㄷ. 2022년 대비 2023년의 개당 매입 원가는 200원 감소한다.

- ① ㄱ      ② ㄴ      ③ ㄱ, ㄷ      ④ ㄴ, ㄷ      ⑤ ㄱ, ㄴ, ㄷ

## 2 (상업 경제)

## 직업탐구 영역

6. 다음 회의 장면에서 나타난 ○○기업의 문제점을 해결할 수 있는 물류 정보 시스템으로 가장 적절한 것은?



- ① 전자 문서 교환(EDI)      ② 첨단 화물 운송(CVO)  
 ③ 공급 사슬 관리(SCM)      ④ 유닛 로드 시스템(ULS)  
 ⑤ 전자 주문 시스템(EOS)

7. 다음 (가), (나)에 나타난 무역을 우리나라 A기업 입장에서 설명한 것으로 옳은 것만을 <보기>에서 고른 것은? [3점]

- (가) A기업은 미국 B기업으로부터 알래스카산 킹크랩 5,000달러어치를 수입하여 보세 구역에 반입한 후, 가공하지 않고 원형 그대로 중국 C기업에 5,500달러에 수출하였다.  
 (나) A기업은 일본의 수출상 D기업과 베트남의 수입상 E기업 간 의류 1만 달러어치의 수출입 거래를 알선하고, 쌍방으로부터 물품 가액의 5%를 알선 수수료로 받았다.

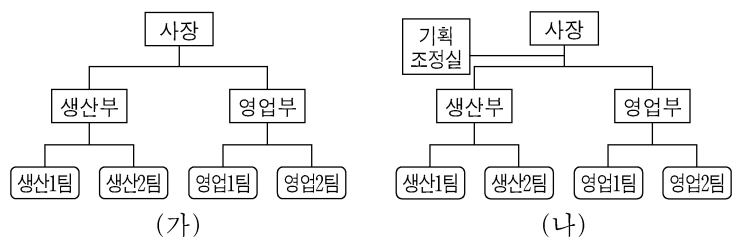
<보 기>

- ㄱ. (가)는 수출입액의 차액 획득을 목적으로 한다.  
 ㄴ. (나)는 D, E기업과 무역 균형을 지향하는 무역이다.  
 ㄷ. (가)는 (나)에 비해 상품 수지를 개선하는 효과가 있다.  
 ㄹ. (가), (나)는 직접 무역 방식에 속한다.

- ① ㄱ, ㄴ      ② ㄱ, ㄷ      ③ ㄴ, ㄷ      ④ ㄴ, ㄹ      ⑤ ㄷ, ㄹ

8. 다음 (가)에서 (나)로 조직 구조가 변경될 경우 얻을 수 있는 장점으로 적절한 것만을 <보기>에서 있는 대로 고른 것은?

권한과 책임이 명확한 (가) 조직 구조에서 직계 참모 조직을 추가한 (나) 조직 구조로 변경함.



<보 기>

- ㄱ. 경영자의 독단적인 결정으로 인한 위험이 감소될 것이다.  
 ㄴ. 사업 부문별 독립채산제 운영을 통해 책임감을 높일 수 있을 것이다.  
 ㄷ. 한 직원이 두 부서에 동시에 소속되어 통합적인 협력이 가능해질 것이다.

- ① ㄱ      ② ㄴ      ③ ㄱ, ㄷ      ④ ㄴ, ㄷ      ⑤ ㄱ, ㄴ, ㄷ

9. 다음은 환율 변동 추이와 수출입 계약 사례를 조사한 수행 평가 보고서이다. 이에 나타난 A~C기업에 대한 설명으로 옳은 것만을 <보기>에서 있는 대로 고른 것은? (단, 환전을 전제로 한다.) [3점]

### 수행 평가 보고서

작성자: ○○○

- 환율 변동 추이
  - 미 달러화 대비 원화 가치는 우리나라 A기업의 수출입 계약 체결일 이후 지속적으로 하락하고 있음.
- 수출입 계약 사례 및 결제 통화

수출	A기업은 D/P 방식의 대금 결제 조건으로 10만 달러어치의 노트북을 미국의 B기업에 수출하는 계약을 체결함.
수입	A기업은 Usance L/C 방식의 대금 결제 조건으로 10만 달러어치의 기계를 미국의 C기업으로부터 수입하는 계약을 체결함.

- 수출입 결제 통화는 미 달러화로 함.

<보 기>

- ㄱ. A기업이 수출할 때 발행하는 환어음의 지급인은 B기업이다.  
 ㄴ. C기업은 거래 은행에 수출 대금 지급을 보증하는 서류의 발행을 의뢰한다.  
 ㄷ. 수입 계약 사례만 고려할 때, A기업은 수입 계약 체결 시점 대비 수입 대금 결제 시점에서 환차익을 얻는다.

- ① ㄱ      ② ㄴ      ③ ㄱ, ㄷ      ④ ㄴ, ㄷ      ⑤ ㄱ, ㄴ, ㄷ

10. 다음은 ○○화장품(주)의 마케팅 전략 수립 계획서의 일부이다. (가)~(다)에 대한 내용으로 적절한 것만을 <보기>에서 고른 것은? [3점]

### 마케팅 전략 수립 계획서

○○화장품(주)

[STP 전략]

(가)	소비자가 추구하는 편익을 기준으로 시장을 세분화	
	〈추구하는 편익〉	〈고객 구분〉
	미백 관리 안티에이징	미백 개선에 관심 있는 고객 주름, 탄력 관리에 관심 있는 고객
표적시장 선정	'주름, 탄력 관리에 관심 있는 고객'을 표적시장으로 선정	
포지셔닝	(나)	

[마케팅 믹스 전략]

(다)

<보 기>

- ㄱ. (가)단계에서는 소비자의 행동적 변수를 기준으로 시장을 세분화하고 있다.  
 ㄴ. (나)에는 '제품 판매 확대를 위해 변화가에 옥외 광고판 설치'가 들어갈 수 있다.  
 ㄷ. (다)에는 촉진 전략으로 '제품의 주름, 탄력 개선 효과를 다룬 뉴스 기사를 통해 홍보 진행'이 들어갈 수 있다.  
 ㄹ. (가)~(다)를 수행한 이후 마케팅 전략 수립 과정에 속하는 3C 분석을 한다.

- ① ㄱ, ㄴ      ② ㄱ, ㄷ      ③ ㄴ, ㄷ      ④ ㄴ, ㄹ      ⑤ ㄷ, ㄹ

11. 다음 A(주)의 경영 활동 사례에 나타난 해외 진출 방식으로 적절한 것은?

우리나라의 A(주)는 △△국의 대교 건설 프로젝트를 수주하는데 성공했다. 향후 A(주)는 4년간 대교를 건설하고 12년간 운영을 통해 수익을 창출하여 건설 대금을 회수한 뒤, △△국에 인도하는 계약을 체결했다.

- ○○신문, 2022년 3월 19일 자 -

- ① 턴키 계약      ② BOT 방식      ③ 국제 라이선싱  
④ 경영 관리 계약      ⑤ 국제 프랜차이징

12. 다음은 A(주)의 경영 활동 개선 계획서이다. 경영 활동 현황 대비 개선 방안을 실행함에 따라 A(주)에서 나타나는 현상으로 적절한 것만을 <보기>에서 고른 것은? [3점]

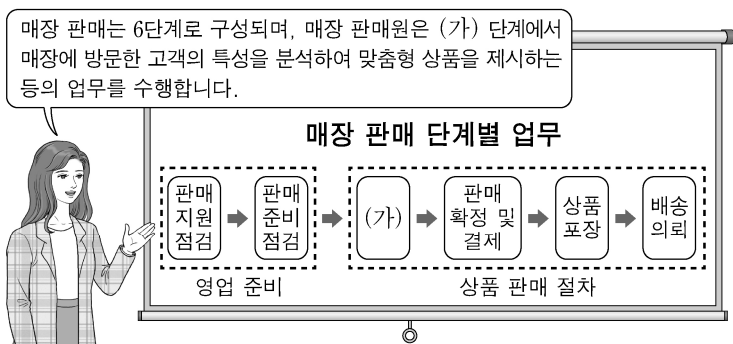
A(주)의 경영 활동 개선 계획서	
경영 활동 현황	개선 방안
운영 자금 조달을 위해 회사채를 발행하였으나, 이자 부담이 증가함.	주주 배정 방식의 유상 증자를 통해 운영 자금을 조달하는 방식으로 변경함.
일정한 지역에 하나의 점포에만 자사의 ○○상품에 대한 독점적 판매권을 부여하였으나, 매출이 지속적으로 감소함.	자사의 ○○상품 취급을 희망하는 모든 점포에 ○○상품을 판매할 수 있는 권한을 부여하는 방식으로 변경함.

<보 기>

- ㄱ. 고객들에게 ○○상품의 노출 빈도를 확대시킬 수 있을 것이다.  
ㄴ. 운영 자금은 자본 시장을 통해 조달하고 있다는 점에는 변화가 없다.  
ㄷ. 간접 금융 방식에서 직접 금융 방식으로 변경하여 운영 자금을 조달하게 된다.  
ㄹ. 모든 점포에서 타사 상품 판매를 통제함으로써 ○○상품의 판매를 확대시킬 수 있을 것이다.

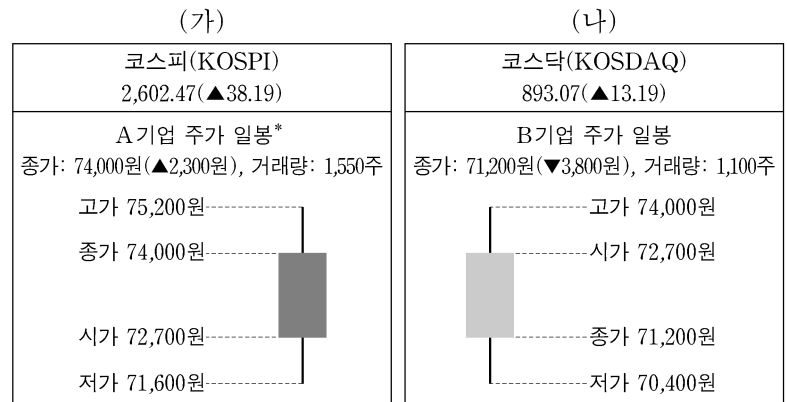
- ① ㄱ, ㄴ      ② ㄱ, ㄷ      ③ ㄴ, ㄷ      ④ ㄴ, ㄹ      ⑤ ㄷ, ㄹ

13. 다음은 매장 판매 단계별 업무에 대해 교육하는 장면이다. (가) 단계에서 매장 판매원이 수행하는 업무로 적절한 것은?



- ① 비품과 소방 안전시설 상태를 확인한다.  
② 고객의 주소 정보를 확인한 후 택배를 요청한다.  
③ 구매한 내용을 고객에게 확인하고 쿠폰을 제공한다.  
④ 업무 전달 사항 확인 후 매장 진열 상태를 확인한다.  
⑤ 경쟁 상품과 비교하여 자사 상품의 가격과 기능을 설명한다.

14. 다음 (가), (나)는 장 종료 후 주식 유통 시장 및 A, B기업의 주가 정보이다. 이에 대한 설명으로 옳은 것은? (단, 2023년 7월 ×일 자 지수 및 주가 정보이고, 15 : 30 이후 거래는 고려하지 않는다.)



\* 일봉 : 1일 거래의 주가 변동을 막대 모양의 봉에 시가, 종가, 고가, 저가로 나타낸 것이다.

- ① (가) 시장의 지수는 기준 시점 대비 약 2.6배 상승하였다.  
② (나) 시장의 운영 주체는 한국금융투자협회이다.  
③ 전일 종가는 A기업 주식이 B기업 주식보다 낮다.  
④ B기업 주식은 장중에 하한가를 기록하였다.  
⑤ A, B기업 주식의 최소 주문 단위는 10주이다.

15. 다음은 A~D국 간 수입 및 경제 통합 상황을 가상으로 나타낸 것이다. A~D국에서 나타나는 현상으로 적절한 것만을 <보기>에서 고른 것은? (단, 경제 통합 형태는 B. Balassa의 분류에 따른다.) [3점]

- A국은 자국의 ○○상품 생산 단가(US \$103/개)와 B~D국의 수입 가격을 비교하여 매년 수입 여부 및 수입국을 최저 가격 기준으로 결정하고 있으며, B~D국의 ○○상품에 다음과 같이 수입 관세를 부과해오고 있다.

구분	B국	C국	D국
수입 단가	US \$90/개	US \$85/개	US \$80/개
수입 관세율	20%	20%	30%

- ※ 수입 관세 = 수입 단가 × 수입 관세율, 수입 가격 = 수입 단가 + 수입 관세  
※ 수입 관세율은 수입 단가를 기준으로 함.

- 이후 2022년, 2023년의 A~D국 간 경제 통합 상황은 다음과 같고, A국은 경제 통합 상황에 따라 수입 관세를 기준과 같이 부과하거나 철폐하고 있다. (단, A국의 ○○상품 생산 단가와 B~D국의 수입 단가는 변동이 없다.)

2022년		A~C국은 경제 동맹 발효를 통해 수입 관세 철폐, A~C국이 속한 경제 동맹은 D국과 FTA 발효를 통해 수입 관세 철폐
2023년		B~D국은 2022년의 경제 통합 유지를 통해 수입 관세 철폐, A국은 경제 통합에서 탈퇴하고 B~D국에 수입 관세 부과

<보 기>

- ㄱ. A국은 2022년 대비 2023년에 무역 창출 효과를 얻는다.  
ㄴ. A국은 2022년에 B, C국과 공동 경제 정책을 수립한다.  
ㄷ. A국이 2023년에 ○○상품 수입 시 얻을 수 있는 관세 수입은 2022년 대비 개당 US \$17 증가한다.  
ㄹ. C국과 D국은 2022년과 2023년에 생산 요소의 이동이 자유로워진다.

- ① ㄱ, ㄴ      ② ㄱ, ㄷ      ③ ㄴ, ㄷ      ④ ㄴ, ㄹ      ⑤ ㄷ, ㄹ



16. 다음 공고문에 나타난 경쟁 매매 방식에 대한 설명으로 옳은 것은?

입찰 공고

○○공사  
당사가 소유하고 있는 비업무용 토지를 매각하고자 다음과 같이 공고합니다.

1. 입찰 건명: 비업무용 토지 매각 건

2. 입찰 방식: 일반 경쟁 입찰(총액)

3. 낙찰자 결정: 입찰자 중 당사에 가장 유리한 입찰 가격을 제시한 업체

- ① 구두나 손짓 등으로 가격을 제시한다.

② 최고 가격으로 매매 가격이 결정된다.

③ 증권 거래소에서 증권을 매매하는 방법이다.

④ 가격을 정하는 방식에는 적하법이 적용된다.

⑤ 다수의 구매자와 다수의 판매자 간 동시 경쟁에 의해 거래된다.

17. 다음은 특성화고 ○○학생의 취업과 대학 진학에 따라 발생하는 소득과 지출을 나타낸 것이다. 두 진로 중 대학 진학을 선택할 경우의 암묵적 비용을 계산한 금액으로 옳은 것은? (단, 암묵적 비용은 연(年) 기준으로 계산하고, 각종 세금 등은 고려하지 않는다.) [3점]

구분	공기업 취업	대학 진학
현황	• 신입사원 채용에 최종 합격	• 대학에 최종 합격
소득	• 연봉 4,000만 원 • 기타수당 연 55만 원	-
지출	-	• 등록금 연 1,000만 원 • 교재 및 학원비 연 300만 원
비고	• 취업 축하금 100만 원 수령 (잔액 단리 연 4%의 금리로 1년 만기 정기예금 가입)	-

- ① 1,300만 원

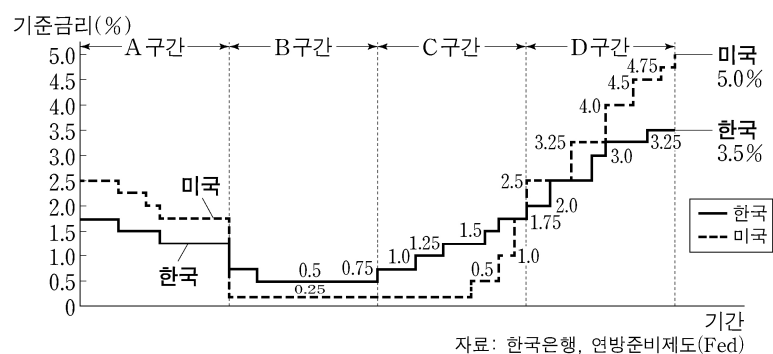
② 4,055만 원

③ 4,059만 원

④ 4,159만 원

⑤ 5,459만 원

18. 그래프는 한국과 미국의 기준금리 변동 추이를 나타낸 것이다. A~D 구간에서 일반적으로 나타날 수 있는 경제 현상으로 가장 적절한 것은? (단, 기준금리 변동만 고려한다.) [3점]



- ① A 구간보다 B 구간에서 우리나라 은행의 대출 금리가 상승할 것이다.

② B 구간보다 C 구간에서 우리나라의 물가는 상승할 것이다.

③ B 구간보다 C 구간에서 우리나라 가계의 소비가 증가할 것이다.

④ C 구간보다 D 구간에서 우리나라 기업의 설비 투자가 증가할 것이다.

⑤ C 구간보다 D 구간에서 우리나라에 있는 달러 투자 자금이 미국으로 유출될 것이다.

[19~20] 다음은 우리나라 A 기업이 받은 구매 청약서에 대한 컨설팅 보고서와 수출 계약서이다. 물음에 답하시오.

A 기업은 미국의 B 기업으로부터 구매 청약서를 받고, 구매 청약서와 수출 계약에 대한 컨설팅을 의뢰하여 보고서를 받았다.

〈구매 청약서 컨설팅 보고서〉

• 컨설팅 목적  
B 기업으로부터 받은 구매 청약서를 A 기업의 상황에 맞게 변경하는 방안을 모색함.

구매 청약서

• 품명: ×××

• 수량 조건: 10ton(M/T)

• 가격 조건: DDP New York

• 품질 조건: GMQ

• 대금 결제 조건: D/A

• 보험 조건: ICC(A)

• 컨설팅 의견  
(가)

A 기업은 컨설팅 의견을 반영한 반대 청약서를 B 기업에 제시하였고, B 기업이 이를 승낙하여 수출 계약을 다음과 같이 체결하였다.

수출 계약서	
• 품명: ×××	• 수량 조건: about 10ton(M/T)
• 가격 조건: CIF New York	• 품질 조건: FAQ
• 대금 결제 조건: At Sight L/C	• 보험 조건: ICC(C)

19. 위 (가)에 들어갈 컨설팅 의견으로 옳지 않은 것은? (단, 신용장 통일 규칙에 의하고, 가격 조건은 인코텀스 2010을 따른다.) [3점]

- ① A 기업이 판매 적격성을 보증하는 품질 조건에서 평균 중등 품질 조건으로 변경한다.

② A 기업이 해상 운임과 보험료를 부담하되 수입 통관 의무가 없는 해상 가격 조건으로 변경한다.

③ A 기업은 B 기업이 선적 서류를 인수하는 즉시 B 기업으로부터 대금을 받는 결제 조건으로 변경한다.

④ A 기업의 위험 이전 분기점을 당사자 간 합의된 지정 도착 장소에서 선적항의 본선 상으로 변경한다.

⑤ A 기업이 수출하는 물품의 특성을 고려하여 계약 수량의 ±10% 이내 과부족이 용인되는 조건으로 변경한다.

20. 위 수출 계약에 따라 체결한 보험과 관련된 설명으로 옳은 것만을 <보기>에서 있는 대로 고른 것은? [3점]

〈보 기〉

ㄱ. 구 협회 적하 약관에 속한다.

ㄴ. 구매 청약서의 보험 조건보다 담보 범위가 좁다.

ㄷ. 보험 목적물을 금전으로 산정할 수 있는 피보험이익이 존재한다.

- ① ㄱ

② ㄴ

③ ㄱ, ㄷ

④ ㄴ, ㄷ

⑤ ㄱ, ㄴ, ㄷ

\* 확인 사항

○ 답안지의 해당란에 필요한 내용을 정확히 기입(표기)했는지 확인 하시오.